

الدراسات الاجتماعية

الصف الرابع (ب)

المنهج الجديد - الترم الأول

البيئات المصرية

حسام أبو أنس





ساحل

البيئة الساحلية

تضم سواحل البحر
بمناظرها الخلابة



صحراء

البيئة الصحراوية

تضم الرمال والجبال
والهضاب



زراعة

البيئة الزراعية

تضم نهر النيل أطول
أنهار العالم

البيئة المكان الذي يحيط بنا، ويضم مظاهر طبيعية وحضارية

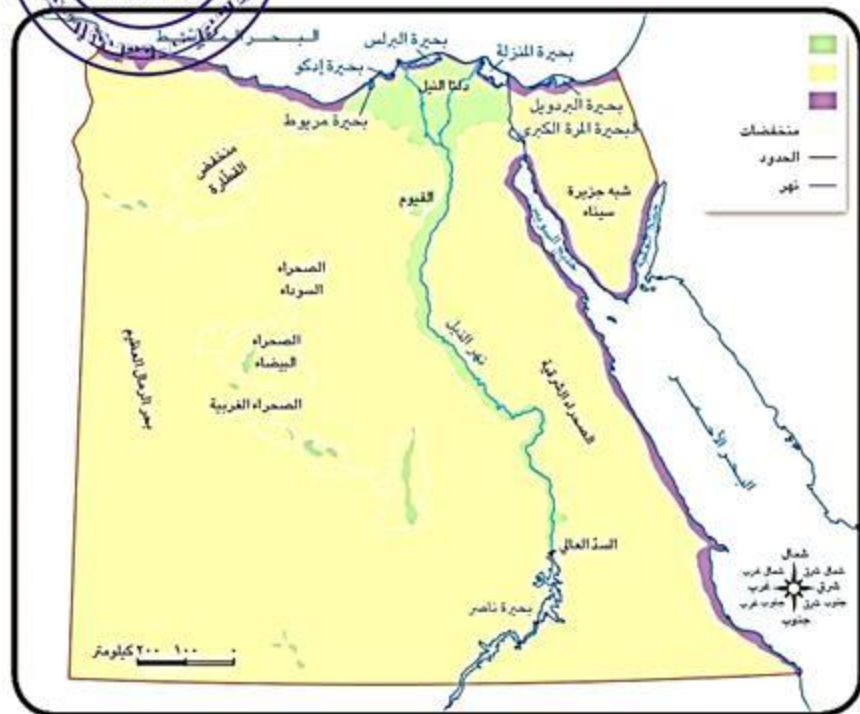




لنعمل على الخريطة

١ لاحظ وحدد

لاحظ الخريطة التالية. أكتب علام يدل كل لون من الألوان الموجودة في مفتاح الخريطة واصفًا كل مدلول بجملة من مفرداتك الخاصة.



١. البيئة الزراعية توجد بها زراعة

٢. البيئة الصحراوية تنتشر بها الرمال

٣. البيئة الساحلية توجد على جانبي البحر

ما سبب تنوع البيئات المصرية؟

١. موقع مصر الجغرافي.

٢. اتساع مساحة مصر.

٣. تنوع مظاهر سطح مصر



البيئة الصحراوية

بعض مظاهر السطح في الصحراء الغربية

الكثبان الرملية

تجمعات كبيرة من الرمال

الصحراء البيضاء يغطيها اللون الأبيض

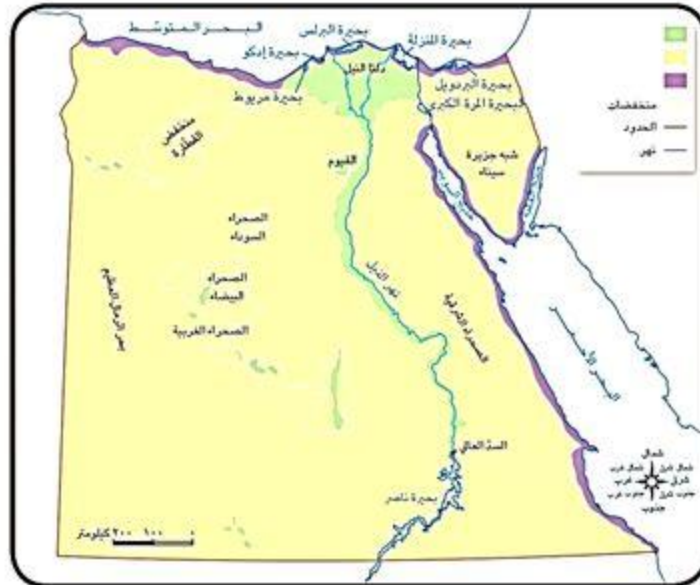
تعتبر متحفاً مفتوحاً لدراسة الظواهر
التضاريسية والحفريات والحياة البرية

الصحراء السوداء

تتميز بالجبال والهضاب التي يغطيها اللون
الأسود؛ بسبب الانفجارات البركانية التي
جفت منذ ملايين السنين

البيئة الصحراوية

تمثل معظم مساحة مصر



موقعها:

الصحراء الغربية

الصحراء الشرقية

شبه جزيرة سيناء

خصائصها:

في الصحراء الغربية

تنتشر: **المنخفضات والكثبان الرملية** (بحر الرمال العظيم).

في الصحراء الشرقية، وسيناء

تنتشر: **الجبال الشاهقة**

والرمال الذهبية

موقعها:

دلتا النيل

وادي النيل

خصائصها:

١- تربة خصبة: للمحاصيل
الشتوية والصيفية

٢- تتميز باستواء السطح

٣- تعتمد على مياه نهر النيل

مياه الأمطار - على ساحل
البحر المتوسط

مياه الآبار - في الواحات

البيئة الزراعية



البيئة الزراعية



بعض المظاهر فيها

نهر النيل

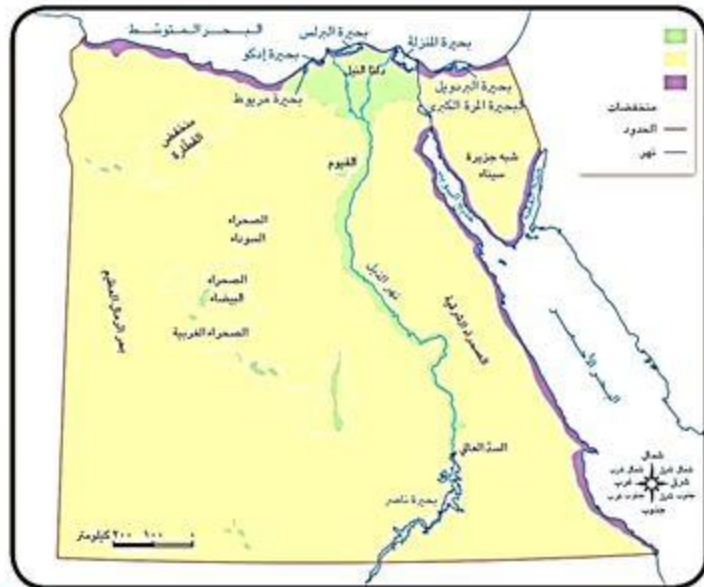
يجري من الجنوب إلى الشمال.
يصب في البحر المتوسط

السد العالي

يخزن المياه لري المناطق الزراعية على طول
نهر النيل على مدار العالم

بحيرة ناصر

توجد أمام السد العالي.
أكبر البحيرات الصناعية في العالم.
موطن لكثير من الأسماك



البيئة الساحلية

خصائصها

أرض شبه مستوية السطح

واسعة عند البحر المتوسط

ضيقة عند البحر الأحمر

بسبب اقتراب الجبال من
الساحل

تنتشر الشعاب المرجانية في
مناطق عديدة



الشعاب المرجانية والأسماك الملونة في البحر الأحمر



موقعها:

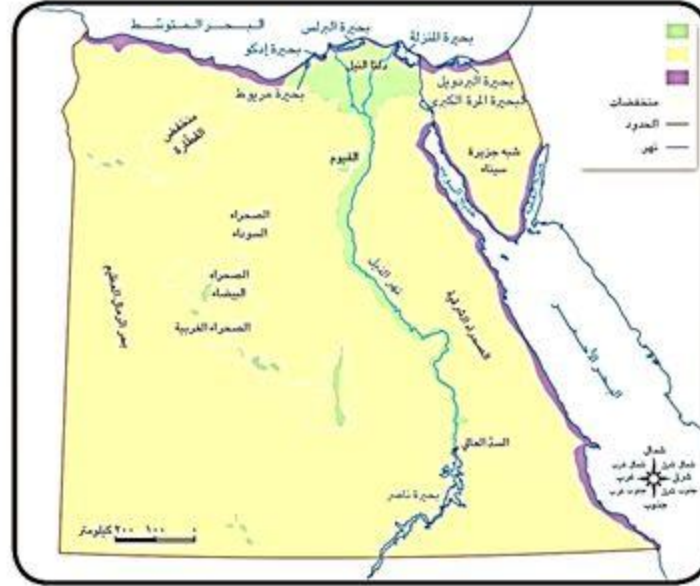
ساحل البحر المتوسط

ساحل البحر الأحمر

الشعاب المرجانية

تنتشر على ساحل (البحر الأحمر - خليج
السويس - خليج العقبة)

تتميز بمناظرها الخلابة
التي تجذب السياح





لنتعمَّق في الفهم

٢ إقرأ وأجب

إقرأ الدرس مرّة أخرى، وانسب المظاهر التالية إلى البيئة الطبيعية التي تنتمي إليها.

١. أطول أنهار العالم البيئة الزراعية

٢. الصحراء البيضاء والصحراء السوداء البيئة الصحراوية

٣. جبال شاهقة وهضاب متعدّدة البيئة الصحراوية

٤. تجمعات كبيرة من الرمال لها أشكال مختلفة البيئة الصحراوية

٥. أكبر بحيرة صناعية في العالم البيئة الزراعية

٦. شعاب مرجانية ذات ألوان خلّابة البيئة الساحلية

٧. تربة خصبة تزرع فيها المحاصيل الصيفية والشتوية البيئة الزراعية

٥٦



قناة التعليم الجديد

لمشاهدة فيديوهات منهج اللغة العربية والدراسات الاجتماعية تابعني على قناتي في اليوتيوب



٣ إقرأ وأجب

ما نوع البيئة التي تصفها كل جملة من هذه الجمل؟

زراعية صحراوية ساحلية

١. توفر لنا الحبوب والفاكهة والخضار لتلبية حاجتنا.

زراعية

٢. عند زيارة هذا المكان احمل معك زجاجة ماء لأنّ الحرّ يكون شديداً، وضّع نظّارات شمسية لتحمي عينيك من الرمال التي قد تدخل فيها.

صحراوية

٣. لا يمكنك شرب الماء منها، لكن يمكنك اللعب على شواطئها.

ساحلية

٤. تعتمد الحياة فيها على مياه الآبار.

صحراوية



الدراسات الاجتماعية في حياتي اليومية

٧ فُكِّرْ وَأجِبْ

تخيّل أنّك ستزور الأماكن التالية، حدّد نوع البيئة التي تتوقّع أن تشاهدها في كلّ منها، والأنشطة التي يمكن أن تمارسها فيها.

١. الإسكندرية

البيئة الساحلية السياحة الصيد

٢. الغردقة

البيئة الساحلية السياحة الصيد

٣. الصحراء البيضاء

البيئة الصحراوية السياحة

٤. أسوان

البيئة الزراعية الزراعة السياحة



قناة التعليم الجديد

لمشاهدة فيديوهات مناهج اللغة العربية والدراسات الاجتماعية تابعني على قناتي في اليوتيوب

السؤال الأول) أكمل العبارات الآتية بما يناسبها من كلمات مما بين القوسين :

(الصحراوية - المرتفعات - الشعاب المرجانية - الغربية - مساحتها - الدلتا)

- ١- تتنوع البيئات الطبيعية في مصر بسبب اتساع **مساحتها**
- ٢- تشغل معظم مساحة مصر البيئة **الصحراوية**
- ٣- تتميز شبه جزيرة سيناء بانتشار **المرتفعات**
- ٤- الصحراء البيضاء في مصر جزء من الصحراء **الغربية**
- ٥- تشمل البيئة الزراعية في مصر وادي النيل و **الدلتا**
- ٦- تنتشر على ساحل البحر الأحمر **الشعاب المرجانية**



قناة التعليم الجديد

لمشاهدة فيديوهات منهج اللغة العربية والدراسات الاجتماعية تابعني على قناتي في اليوتيوب



السؤال الثاني

ضع علامة (✓) أمام العبارة الصحيحة، وعلامة (X) أمام العبارة غير الصحيحة.

- ١- تعتمد الحياة في البيئة الصحراوية على مياه نهر النيل. (X)
- ٢- بحيرة ناصر موطن لكثير من الأسماك. (✓)
- ٣- ساعد الموقع الجغرافي لمصر ومظاهر السطح على تنوع البيئات الطبيعية في مصر. (✓)
- ٤- المحاصيل الزراعية في مصر تتنوع بين محاصيل صيفية وشتوية. (✓)
- ٥- تنتشر الكثبان الرملية في الصحراء الغربية. (✓)



قناة التعليم الجديد

لمشاهدة فيديوهات منهج اللغة العربية والدراسات الاجتماعية تابعني على قناتي في اليوتيوب



صوب ما تحته خط:

السؤال الثالث

- ١- تزرع المحاصيل الصيفية والشتوية في البيئة الساحلية.
- ٢- الزراعة في الدلتا ووادي النيل في مصر تعتمد على مياه الآبار.
- ٣- بحر الرمال العظيم يوجد في الصحراء الشرقية.
- ٤- السد العالي يوجد في شمال نهر النيل.
- ٥- بحيرة ناصر أصغر بحيرة صناعية في العالم.
- ٦- ساحل البحر الأحمر يتميز بـ الاتساع.

الزراعية

نهر النيل

الغربية

جنوب

أكبر

الضيق



قناة التعليم الجديد

لمشاهدة فيديوهات منهج اللغة العربية والدراسات الاجتماعية تابعني على قناتي في اليوتيوب



السؤال الرابع

ضع دائرة حول الإجابة الصحيحة مما يلي :

١- تنتشر الأراضي الزراعية في مصرفى

- (أ) ساحل البحر الأحمر
(ب) الصحراء الشرقية
(ج) وادى النيل
(د) الصحراء البيضاء

٢- بحر الرمال العظيم يوجد فى

- (أ) الصحراء الشرقية
(ب) الصحراء الغربية
(ج) شبه جزيرة سيناء
(د) دلتا النيل

٣- الموقع الجغرافى ومظاهر السطح ومساحة مصر الكبيرة، كل ذلك أدى إلى

- (أ) تنوع البيئات
(ب) توحيد البيئات
(ج) ثبات البيئات
(د) اختلال البيئات



٤- الكثبان الرملية تنتشر في البيئة.....

(أ) الزراعية

(ب) الصناعية

(ج) الصحراوية

(د) الساحلية

٥- يخزن المياه لرى المناطق الزراعية على مدار العام.....

(أ) الترعى

(ب) السد العالى

(ج) البحر الأحمر

(د) البحر المتوسط

٦- سطح الأرضى الزراعية فى مصر يتميز بأنه.....

(أ) متعرج

(ب) مستو

(ج) رملى

(د) صخرى

٧- الشعاب المرجانية فى مصر تنتشر على ساحل.....

(أ) البحر المتوسط

(ب) البحر الأحمر

(ج) الدلتا

(د) الخليج العربى



السؤال الخامس

صنف المحافظات التالية حسب وجودها في البيئات المصرية في الجدول التالي

(الإسكندرية - بورسعيد - القليوبية - جنوب سيناء - أسوان - الوادي الجديد - الشرقية)

البيئة الصحراوية

جنوب سيناء

الوادي الجديد

البيئة الساحلية

الإسكندرية

بورسعيد

البيئة الزراعية

القليوبية

أسوان الشرقية

السؤال السادس اكتب أسفل كل صورة البيئة التي تنتمي إليها:



٣- بيئة... ساحلية



٢- بيئة... صحراوية



١- بيئة... زراعية



السؤال السابع

اشرح أسباب تنوع البيئات الطبيعية في مصر .

بمسبب

١- موقع مصر الجغرافي .

٢- اتساع مساحة مصر .

٣- تنوع مظاهر السطح .

السؤال الثامن

وضح العلاقة بين نهر النيل والبيئة الزراعية .

ساعد نهر النيل على قيام الزراعة في البيئة الزراعية



قناة التعليم الجديد

لمشاهدة فيديوهات منهج اللغة العربية والدراسات الاجتماعية تابعني على قناتي في اليوتيوب



الواجب

مَن يكون؟

١- يخزن مياه نهر النيل لاستخدامها في الزراعة طول العام.

٢- بيئة تنتشر فيها الرمال والمرتفعات.

٣- أكبر بحيرة صناعية في العالم.

٤- منطقة في الصحراء يغطيها اللون الأسود بسبب بقايا الانفجارات البركانية



قناة التعليم الجديد

لمشاهدة فيديوهات منهج اللغة العربية والدراسات الاجتماعية تابعني على قناتي في اليوتيوب