

الكتاب
مكتبة
الدراسات



2025

الامتحان



الكتاب
الإعدادي
الكتاب
الدراسات

الدراسات
الاجتماعية

ar



الدرس الأول



أسئلة على

أسئلة
شاملة

من أسئلة الكتاب المدرس

الأسئلة المسبقة بالعلامة

مستويات عليا

تذكر

فهم

تطبيق

١ أملك خرائط لقارات العالم، أجب حسب المطلوب :

(١) آسيا :



- (١) دائرة الاستواء
- (٢) المحيط القطبي الشمالي
- (٣) المحيط الهندي
- (٤) بحر قزوين
- (٥) خليج البنغال
- (٦) مضيق بيرنج
- (٧) جزر الفلبين
- (٨) شبه جزيرة العرب
- (٩) جزر اليابان
- (١٠) جبال أوران
- (١١) شبه جزيرة الملايو

(ب) أفريقيا :

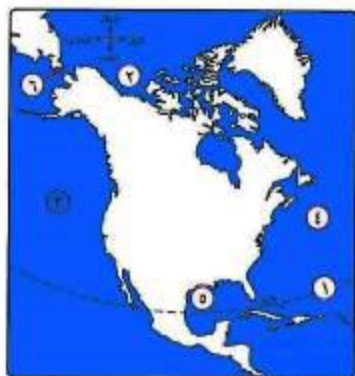


- (١) مدار الجدي
- (٢) المحيط الأطلنطي
- (٣) البحر الأحمر
- (٤) البحر المتوسط
- (٥) خليج غينيا
- (٦) مضيق جبل طارق
- (٧) مضيق باب المندب
- (٨) مضيق موزمبيق
- (٩) جزيرة مدغشقر
- (١٠) جزر القمر

(ج) أوروبا :



- (١) الرقم ٦ يشير إلى البحر الأسود
- (٢) الرقم ١ يمثل دائرة عرض رئيسية وهي القطبية الشمالية
- (٣) يمثل مضيق البسفور الرقم ٥
- (٤) الرقم ٢ يشير إلى المحيط الأطلنطي
- (٥) يمثل البحر المتوسط الرقم ٣



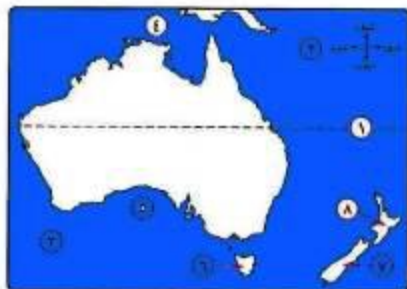
(د) أمريكا الشمالية :

- (١) مدار... السرطان
- (٢) المحيط... القطبي الشمالى
- (٣) المحيط... الهادى
- (٤) المحيط... الاطلنطى
- (٥) خليج... المكسيك
- (٦) مضيق... بيرنج



(هـ) أمريكا الجنوبية :

- (١) دائرة... الاستواء
- (٢) مدار... الجدى
- (٣) المحيط... الأطلنطى
- (٤) المحيط... الهادى
- (٥) البحر... الكاريبى
- (٦) مضيق... ملجلان



(و) أستراليا (الأوقيانوسية) :

- (١) الرقم ٤ يمثل بحر... أرافورا
- (٢) يمثل الخليج الأسترالى الكبير الرقم ٥
- (٣) أكبر محيطات العالم مساحة يمثل رقم ٢
- (٤) جزيرة نيوزيلندا الشمالية تمثل رقم ٨
- (٥) جزيرة تسمانيا تمثل رقم ٦
- (٦) الرقم ١ يشير إلى دائرة عرض مدار الجدى

٢ اخترا الإجابة الصحيحة مما بين القوسين :

- (١) تُعد قارة أكبر قارات العالم من حيث المساحة.
(أفريقيا - أوروبا - آسيا - أستراليا) (ش. سيناء ١٩)
- (٢) يُعتبر المحيط أكبر محيطات العالم مساحة.
(الهندى - الهادى - الأطلنطى - القطبى الشمالى)
- (٣) أى من القارات الآتية تعد إحدى قارات العالم الجديد ؟
(آسيا - أستراليا - أفريقيا - أوروبا)
- (٤) يفصل قارة آسيا عن قارة أفريقيا البحر
(الأحمر - المتوسط - الكارىي - الأسود) (أسوان ٢٢)
- (٥) تقع قارة آسيا شمال المحيط
(الهادى - الأطلنطى - الهندى - القطبى الشمالى) (مطروح ٢٤)
- (٦) أكبر البحار المغلقة في العالم
(البحر الأحمر - البحر المتوسط - بحر قزوين - البحر الأسود) (البحر الأحمر ٢٤)
- (٧) تتميز قارة آسيا بكثرة الجزر القريبة من سواحلها مثل
(جزر الفلبين - جزر القمر - الجزر البريطانية - جزر نيوزيلندا) (الإسكندرية ١٨)
- (٨) تمتلك قارة أفريقيا السيطرة الكاملة على مضيق
(باب المندب - البسفور - بيرنج - موزمبيق)
- (٩) يحده قارة أوروبا من الشمال المحيط
(الأطلنطى - القطبى الشمالى - الهادى - الهندى) (الإسكندرية ٢٢)
- (١٠) أى من الجزر التالية ساهمت في زيادة الامتداد الفلكى لقارة أوروبا ؟
(الجزر البريطانية - جزيرة تسمانيا - جزر فوكلاند - جزيرة آيسلندا)
- (١١) ملتقى قارات العالم القديم يتمثل في
(المحيط الهندى - المحيط الأطلنطى - البحر الأحمر - البحر المتوسط) (البحر الأحمر ٢٤)
- (١٢) يقع أكبر المسطحات المائية مساحة بالنسبة لأمريكا الجنوبية في الجهة
(الشمالية - الجنوبية - الشرقية - الغربية)
- (١٣) تطل السواحل الشرقية لقارة آسيا على نفس المسطح المائى الذى تطل عليه السواحل الغربية لقارة
(أفريقيا - أمريكا الجنوبية - أوروبا - أستراليا)
- (١٤) أى من القارات الآتية يحيط بها محيط واحد من جميع الجهات ؟
(آسيا - أستراليا - أوروبا - أنتاركتيكا)

- (١٥) أكثر القارات التي تمر بأراضيها دوائر عرض رئيسية هي قارتي
- (أفريقيا وأمريكا الشمالية - أوروبا وأمريكا الجنوبية - أستراليا وآسيا - أفريقيا وآسيا)
- (١٦) تمر الدائرة القطبية الشمالية بكل من آسيا وأمريكا الشمالية و
- (أنتاركتيكا - أستراليا - أمريكا الجنوبية - أوروبا) (أسوان ٢٣)
- (١٧) من قارات العالم القديم وتقع بأكملها في نصف الكرة الأرضية الشمالي قارة
- (أمريكا الشمالية - آسيا - أوروبا - أفريقيا) (مطروح ٢٣)
- (١٨) القارة المأهولة بالسكان وتقع بأكملها في نصف الكرة الأرضية الجنوبي
- (أفريقيا - أمريكا الجنوبية - أستراليا - القارة القطبية الجنوبية) (بورسعيد ٢٣)

٣ اكتب كلمة (صواب) أمام العبارة الصحيحة، وكلمة (خطأ) أمام العبارة غير الصحيحة، مع التصويب :

- (١) تحاط قارة آسيا بالمحيطات من ثلاث جهات هذا الجهة الشمالية. **الغربية** (المنيا ٢٤) (X)
- (٢) يوجد بقارة آسيا أكبر بحر مغلق في العالم. (البحيرة ١٩) (✓)
- (٣) يحده قارة أفريقيا من الغرب المحيط الهندي. **الأطلسي** (X)
- (٤) تقترب قارة أفريقيا من قارة أوروبا عند مضيق هرمز. **جبل طارق** (الإسماعيلية ٢٣) (X)
- (٥) تقع قارتي أمريكا الشمالية وأمريكا الجنوبية إلى الغرب من المحيط الهادي. **الشرقي** (البحيرة ٢٣) (X)
- (٦) تطل السواحل الغربية للمحيط الهادي على أكبر وأصغر قارات العالم مساحة. (X)
- (٧) يفصل قارة أستراليا عن جزر إندونيسيا في الشمال بحر آرال. **أرافورا** (الوادي الجديد ٢٤) (X)
- (٨) تتبع جزر نيوزيلندا وتسمانيا قارة أستراليا. (الإسماعيلية ٢٣) (✓)
- (٩) تُعتبر روسيا من الدول التي لها مصالح في القارة القطبية الجنوبية. **الغربية** (٢٢) (✓)
- (١٠) يمر مدار الجدي بقارات أستراليا وأفريقيا وأمريكا الجنوبية. (البحيرة ٢٤) (✓)

٤ اكتب ما تشير إليه كل عبارة مما يأتي :

- (١) موقع المكان سواء كان قارة أو دولة أو غيرها بالنسبة للأماكن الأخرى. (الجزيرة ٢٤) **(الموقع الجغرافي)**
- (٢) الدول التي تتكون من جزيرة أو أكثر أو قد تكون جزءاً من جزيرة. (الجزيرة ٢٤) **(الدول الجزرية)**
- (٣) قارة يقع معظمها في النصف الجنوبي من الكرة الأرضية وتبدو في شكل أقرب إلى المثلث. **(أمريكا الجنوبية)** (سوهاج ٢٢)
- (٤) قارة تتكون من عدة جزر يحدها المحيط الهادي شرقاً والمحيط الهندي غرباً وجنوباً. (القيوم ٢٢) **(أستراليا)** (.....)
- (٥) قارة تقع بنصف الكرة الأرضية الغربي والشرقي حول القطب الجنوبي. **(أنتاركتيكا)** (.....)

- (١) كثرة الجزر وتعارض السواحل في قارة أوروبا .
 ترتب على ذلك كثرة الموانئ الطبيعية على السواحل .
 (٢) امتداد القارة القطبية الجنوبية (أنتاركتيكا) أقصى جنوب الكرة الأرضية .
 أصبحت قارة متجمدة وغير مأهولة بالسكان .
 (٣) كثرة الجزر وتعارض السواحل في قارة أوروبا .
 ترتب على ذلك كثرة الموانئ الطبيعية على السواحل .
 (٤) امتداد القارة القطبية الجنوبية (أنتاركتيكا) أقصى جنوب الكرة الأرضية .
 أصبحت قارة متجمدة وغير مأهولة بالسكان .

- قارة أمريكا الشمالية ، وقارة أمريكا الجنوبية ، من حيث الموقع الجغرافي .
 بطلان من جهة الشرق على المحيط الاطلنطي ومن الغرب على المحيط الهادي
 تشرف قارة أمريكا الجنوبية من الشمال على البحر الكاربي بينما يقع البحر
 الكاريبي جنوب شرق أمريكا الشمالية
 قارن بين : قارة أفريقيا ، وقارة آسيا ، من حيث الموقع الجغرافي .

الموقع الجغرافي	الموقع الجغرافي
يحدّها :	يحدّها :
شمالاً : المحيط القطبي الشمالي .	شمالاً : البحر المتوسط (يقصّلها عن أوروبا) .
شرقاً : المحيط الهادي .	شرقاً : المحيط الهندي والبحر الأحمر .
جنوباً : المحيط الهندي .	غرباً : المحيط الأطلنطي .
غرباً : قارة أوروبا ، والبحر المتوسط ، والبحر الأحمر .	

- (١) تشرف جميع قارات العالم الجديد المأهولة بالسكان على المحيط
 (الأطلنطي - الهادي - الهندي - القطبي الشمالي)
 (٢) تمتد قارة أوروبا في أكثر من ٩٠ درجة طولية بسبب
 (كثرة المضائق - موقع الجزر التابعة لها - زيادة عدد الدول - اتساع المساحة)
 (٣) أقرب يابس إلى قارة أمريكا الشمالية من جهة الغرب يتمثل في قارة
 (أستراليا - آسيا - أوروبا - أمريكا الجنوبية)
 (٤) القارة التي ينعلم اتصالها البري بأى قارة أخرى هي قارة
 (أمريكا الشمالية - أمريكا الجنوبية - أوروبا - أنتاركتيكا)

(٥) أى من المضايق التالية تمثل منطقة التقاء بين قارات العالم القديم والحديث ؟ مضيق

(موزمبيق - بيرنج - هرمز - البسفور)

(٦) تتشابه قارة أفريقيا مع قارة أمريكا الجنوبية في

(مرور دائرة الاستواء بأجزائها الشمالية - قلة خطوط الطول المارة بأطرافها الجنوبية -

كثرة الجزر بالقرب من سواحلها - عدد دوائر العرض المارة بهما)

(٧) القارة التى تلتقى عندها جميع خطوط الطول هى

(آسيا - أفريقيا - أنتاركتيكا - أمريكا الشمالية)

٩ اكتب كلمة (صواب) أمام العبارة الصحيحة، وكلمة (خطأ) أمام العبارة غير الصحيحة، مع التصويب :

(١) يتشابه البحر المتوسط مع البحر الأحمر فى كونهما حدودًا فاصلة

لقارة أفريقيا عن القارات المجاورة.

(صواب)

(٢) يعتبر المحيط الأطلنطى حدًا طبيعيًا لأربع قارات.

(صواب)

١٠ بم تفسر :

رغم صغر مساحة قارة أستراليا إلا أنها تمتد فى عدد خطوط طول أكثر من قارة أمريكا الجنوبية ؟

كثرة الجزر التابعة لقارة أستراليا بالمقارنة بقارة أمريكا الجنوبية

١١ أعط أمثلة لـ : دول جزيرية تنتمى لقارات العالم الجديد.

جزيرة نيوزيلندا تابعة لقارة أستراليا

١٢ حدد :

(١) الدول العربية التى تُعد دول جزيرية.

البحرين / دولة جزر القمر

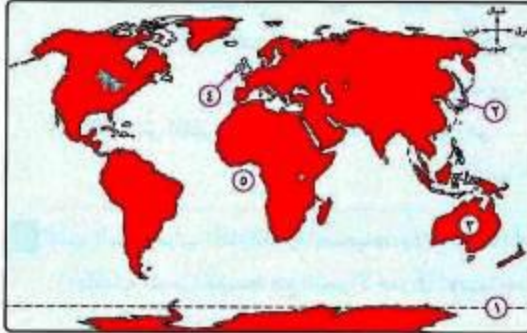
(٢) القارات التى يمر بها خط جرينتش.

أوروبا / إفريقيا / القارة القطبية الجنوبية / أنتاركتيكا

١٣ دلل جغرافيًا على صحة العبارة الآتية :

تمتلك القارة القطبية الجنوبية بعض الخصائص التى تنفرد بها عن باقى قارات العالم.

قارة متجمدة معظم أيام السنة / غير مأهولة بالسكان / يحيط بها محيط واحد من جميع الجهات هو المحيط المتجمد الجنوبي



١ (١) أمامك خريطة للعالم، اكتب

مدلول الأرقام التي عليها :

(١) الدائرة القطبية الجنوبية

(٢) بحر اليابان

(٣) قارة ... استراليا

(٤) الجزر البريطانية

(٥) خليج ... غينيا

(ب) بم تفسر : كثرة الموانئ بقارة أوروبا ؟ بسبب تعرج الساحل وكثرة الجزر

(ج) اكتب كلمة (صواب) أمام العبارة الصحيحة، وكلمة (خطأ) أمام العبارة غير الصحيحة، مع التصويب :

(١) تكثر الجزر حول قارة أفريقيا ومن أهمها جزيرة مدغشقر وجزر القمر. **تقل** (خطأ)

(٢) تطل أستراليا على المحيط الهندي من جهة الغرب. **صواب** (صواب)

٢ (١) اختر الإجابة الصحيحة مما بين القوسين :

(١) يقع بحر آرأفورا شمال قارة

(أ) آسيا - أمريكا الشمالية - أستراليا - أوروبا (الإسماعيلية ١٨)

(٢) يفصل موانئ غرب أفريقيا عن موانئ شرق الأمريكتين

(أ) البحر المتوسط - البحر الأحمر - المحيط الأطلسي - المحيط الهندي

(٣) أي من القارات الآتية تقع بالكامل في نصف الكرة الأرضية الغربي ؟ قارة

(أ) أوروبا - أفريقيا - أستراليا - أمريكا الجنوبية

(٤) يفصل قارة أوروبا عن قارة آسيا

(أ) جبال أورال - بحر آرأفورا - البحر المتوسط - المحيط الأطلسي

(ب) ما المقصود بكل مصطلح مما يأتي ... ؟

(١) موقع جغرافي.

(المناخية ٢٣)

(٢) دول جزرية.

(بورسعيد ٢٢)